


Iníciate

Problema de comparación 1 (CM1)

En una partida de ajedrez quedan en el tablero 8 piezas blancas y 7 piezas negras. ¿Cuántas piezas quedan en total?

8 piezas blancas



7 piezas negras



¿Cuántas piezas quedan en total?

Problema de cambio 5 (CA5)

Mi prima me da 4 euros. Con ellos reúno 12 euros. ¿Cuántos euros tenía antes de que mi prima me diera nada?



¿Cuántos € tenía antes de que mi prima me diera?

Problema de cambio 6 (CA6)

Le he dado a mi prima 4 euros. Me quedan 8 euros. ¿Cuántos euros tenía antes de darle dinero a mi prima?



¿Cuántos € tenía antes de darle a mi prima?

Avanza

Hoy Emma y sus amigas han estado jugando a los cromos. Cada una traía una cantidad diferente después de varias partidas estos son los cromos con los que ha terminado cada una

LUCA	176 cromos
EMMA	325 cromos
ADRIÁN	248 cromos
LAIA	184 cromos

Problema de cambio 5 (CA5)

Emma ganó 105 cromos durante las partidas que jugaron. ¿Cuántos cromos traía al comienzo del día?


Problema de cambio 6 (CA6)

Teniendo en cuenta que Laia perdió 192 cromos a lo largo de las diferentes partidas. ¿Cuántos cromos tenía al inicio?


Problema de comparación 1 (CM1)

En Fisterra sembraron 106 semillas de roble y 45 semillas de castaño.
¿Cuántas semillas de roble más que de castaño se sembraron?

106 semillas de roble



45 semillas de castaño



¿Cuántas semillas de roble más que de castaño se sembraron?

Avanza un poco más

Problema de cambio 5 (CA5)

Un grupo de amigos ha realizado varios kilómetros de marcha por el campo y todavía le quedan 6 km hasta el final. La ruta es de 15 kilómetros. ¿Cuántos kilómetros ha realizado al principio?

Le quedan	Ruta
6 km	15 km
¿Cuántas km ha realizado al principio?	

Problema de cambio 6 (CA6)

Marta y Susana se van de viaje. Estarán 4 días en Venecia y 6 días en Roma. Al contratar el viaje pagan 196 euros y aún les queda por pagar 159 euros. ¿Cuánto les cuesta el viaje?

En Venecia	En Roma	Al contratar	Les queda
4 días	6 días	196 €	159 €
¿Cuánto les cuesta el viaje?			

Problema de comparación 1 (CM1)

El libro de Gerónimo Stilton tiene 384 páginas y 31 ilustraciones. El libro del Diario de Greg tiene 45 páginas menos que el de Gerónimo. ¿Cuántas páginas tiene el Diario de Greg?

Stilton	Stilton	Greg
384 páginas	31 ilustraciones	45 páginas menos
¿Cuántas páginas tiene el diario de Greg?		

Inventa, crea y razona

Inventa un solo enunciado para cada una de estas dos preguntas y haya la solución.

¿Cuántos puntos ha conseguido Daniel? 40

¿Cuántas veces menos puntos ha conseguido Aitor que Alejandra?

4 veces menos.