

ACTIVIDADES

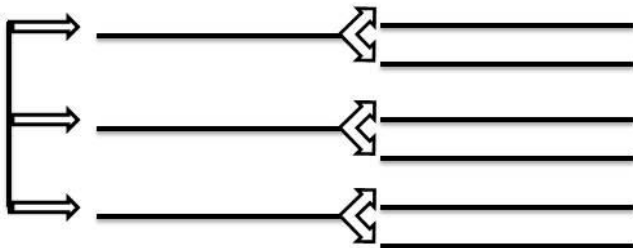
A rede xeográfica

- ✱ Completa os esquemas sobre as liñas imaxinarias e as coordenadas xeográficas.

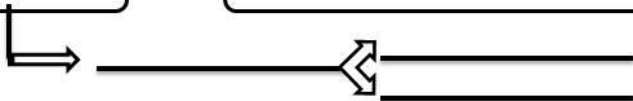
AS LIÑAS IMAXINARIAS

1 ⇒

2 ⇒



3 ⇒

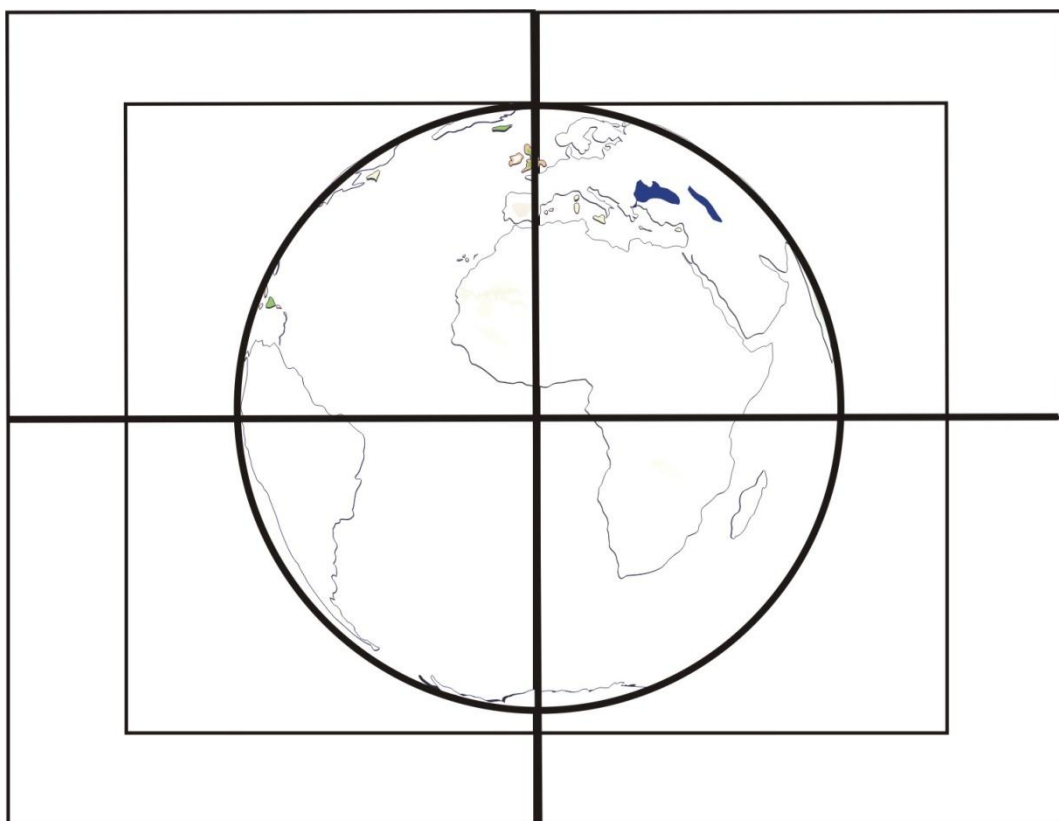


COORDENADAS XEOGRÁFICAS


1 ⇒

2 ⇒

- × ¿ Existen na realidade as liñas imaxinarias? ¿ Onde as podemos ver e utilizar?
- × ¿ Poderías explicar que uso lles damos, é decir, para que valen?
.....
.....
- × ¿Cómo explicarias a diferenza entre paralelos e meridianos ?
.....
.....
- × ¿Que é un hemisferio?
.....
.....
- × ¿Cantos poderías enumerar? Noméaos:
 -
 -
 -
 -
- × Nas seguintes imaxes :
 - Localiza as liñas imaxinarias que se representan e os 4 puntos cardinais.
 - Colorea no mapa e no primeiro recadro interior de verde o Hemisferio Boreal e de vermello o Hemisferio Austral. Colorea os recadros exteriores, de azul o Hemisferio Occidental e de amarelo o Hemisferio Oriental.



- × Pon nesta rosa dos ventos os seguintes pontos cardinais: N, S, L, O, NO, NL, SO, SL.



- × No seguinte planisferio localiza as liñas imaxinarias, os puntos cardinais, os océanos, os continentes e os seguintes puntos:

- | | |
|--|---|
| 1: $30^{\circ}\text{N} - 60^{\circ}\text{O}$ | 6: $90^{\circ}\text{N} - 0^{\circ}\text{L}$ |
| 2: $45^{\circ}\text{N} - 120^{\circ}\text{L}$ | 7: $0^{\circ}\text{O} - 180^{\circ}\text{O}$ |
| 3: $60^{\circ}\text{S} - 90^{\circ}\text{O}$ | 8: $90^{\circ}\text{N} - 180^{\circ}\text{O}$ |
| 4: $66^{\circ}33'\text{S} - 150^{\circ}\text{L}$ | 9: $90^{\circ}\text{N} - 180^{\circ}\text{L}$ |
| 5: $0^{\circ}\text{N} - 0^{\circ}\text{O}$ | |

