

Exercicios Unidade 12: A Consolidación do Réxime. Crecemento económico e transformacións sociais. Emigración a Europa. A oposición no interior e no exilio. A vida cotiá.

1. Comentario de documentos.

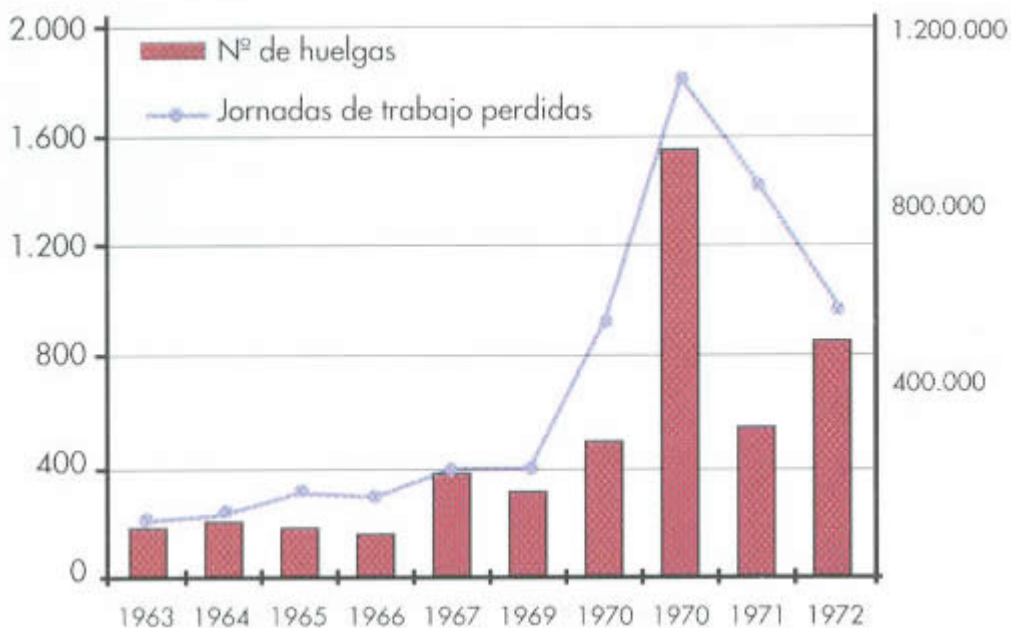
Coas gráficas e mapas que seguen tenta redactar un comentario no que, despois dunha introdución na que contextualices historicamente as gráficas e os mapas, debes **explicar a evolución da economía española durante a última etapa do franquismo**, sinalando os principais factores que influíron en dita evolución, así como a incidencia que tiveron os plans económicos e os movementos obreiros desta etapa, as consecuencias migratorias.... Ademais estes documentos tamén reflicten o papel da oposición nos últimos anos do franquismo. Explica as diversas tendencias e manifestacións que tivo nesta época

Despois fai unha conclusión do comentario cunha valoración histórica do que supuxo o Plan de Estabilización económica e o nacemento dos sindicatos así como a súa transcendencia futura.

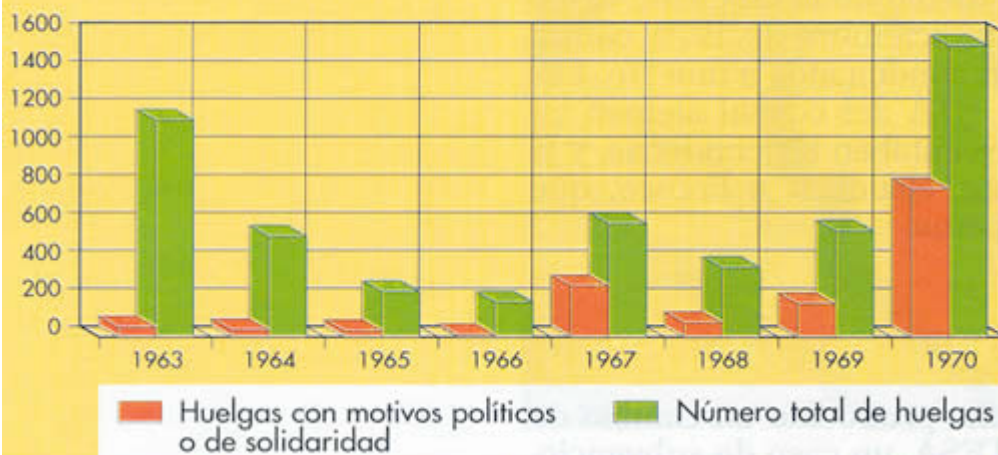
Guión para describir e interpretar unha gráfica:

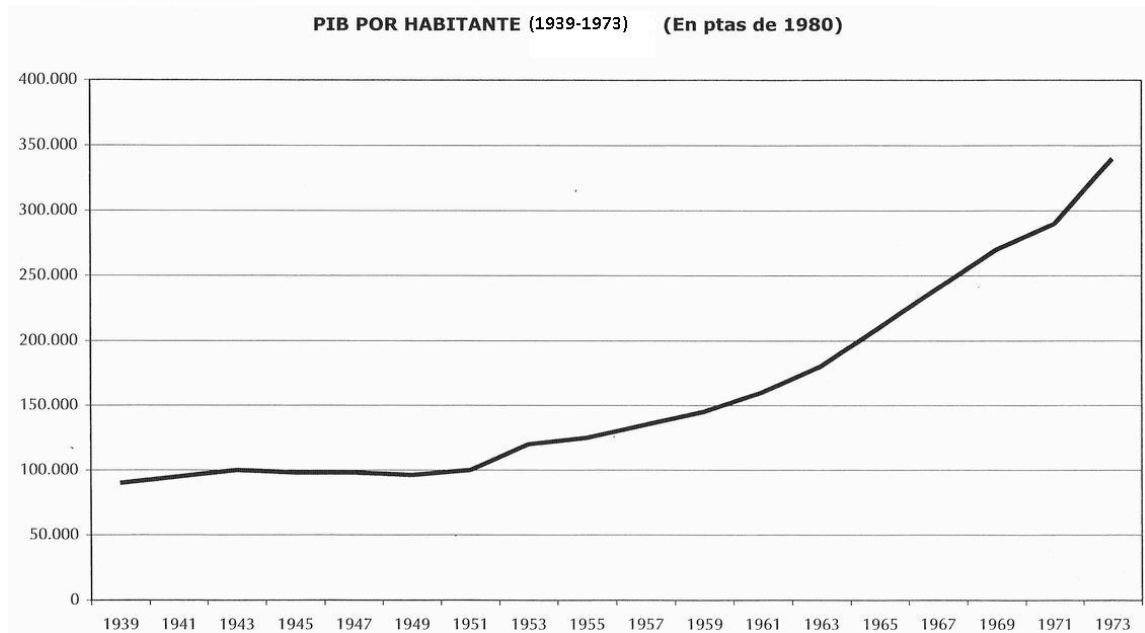
Segundo os criterios específicos de corrección, na gráfica teremos que indicar:

- 1º) O tipo de gráfica (lineal, de barras, etc.).**
- 2º) A natureza da mesma (económica, política, demográfica, estatística, etc.).**
- 3º) A descrición da secuencia cronolóxica.**
- 4º) A análise e a valoración da gráfica, dándolle unha interpretación histórica.**
- 5º) Un comentario de todos os aspectos que se poidan observar na gráfica.**



**CONFLICTOS OBREROS Y PORCENTAJE DE LOS MISMOS
QUE TIENEN MOTIVOS DE SOLIDARIDAD O DIRECTAMENTE
POLÍTICOS (1963-1970)**





3. Interpreta os seguintes mapas e relaciónaos cos documentos anteriores



